

Выпуклая работа

по истории

ученики 7, 21 класса

школу СОШ №4

Бабушка Анастасия Романовна

Учитель: Лобутина Людмила

Александровна



**II (муниципальный) этап Всероссийской олимпиады школьников
2015/16 учебный год**

*Итого: 78 баллов 2-4-13
+ 2 80 баллов*

805

Предмет	Класс	Дата	Время начала	Время окончания
История	7	15 ноября 2016	10:00	11:30

Задание 1. Верны ли следующие утверждения? («Да» – «Нет»). Ответы внесите в таблицу.

Максимальный балл за задание – 12

1. Название племен древних славян радимичей и вятичей происходит от названия рек Вятка и Родима, вдоль которых они селились.
2. Софийский собор в Киеве заложен на месте, где Ярослав Мудрый разбил кочевников-печенегов.
3. В городах Древней Руси можно было жить по племенным традициям.
4. Чингисхан использовал в управлении государством опыт и знания китайских чиновников, привлекал к себе на службу китайских ученых, военных специалистов.
5. Иван IV пожаловал атамана Ермака титулом князя Сибирского.
6. В Древней Руси кожаные сапоги горожан называли «поршнями».

Ответ:

1	2	3	4	5	6
<i>нет</i>	<i>да</i>	<i>нет</i>	<i>нет</i>	<i>нет</i>	<i>нет</i>

+ + + - + -

Задание 2. В таблице перед вами перечень исторических событий (процессов). Установите соответствие между данными событиями (процессами) и приведенными ниже изображениями: к каждому событию (процессу) подберите по одному изображению. Ответ занесите в таблицу после перечня.

Максимальный балл за задание – 29

Перечень событий (процессов)

А) Объединение земель вокруг Москвы. Формирование единого (централизованного) Русского государства	Б) Взятие русскими войсками Казани. Присоединение Казанского ханства
В) Призвание, согласно «Повести временных лет», князя Рюрика славянами. Начало династии Рюриковичей	Г) Крещение Руси. Принятие христианства

Ответ: (макс. 8 баллов)


А	Б	В	Г
<i>3</i>	<i>1</i>	<i>4</i>	<i>2</i>

+ + + +



II (муниципальный) этап Всероссийской олимпиады школьников
2015/16 учебный год

Предмет	Класс	Дата	Время начала	Время окончания
История	7	15 ноября 2016	10:00	11:30



Прочтите отрывок из исторического источника и определите, о каком из данных событий (процессов) он повествует. В ответе запишите букву, которой обозначено это событие (процесс).

«Месяца сентября в 8 день прииде князь великий Иван Васильевич, и с своим сыном великим князе Иваном Ивановичем, и с своею братию, и с воеводами, и со всеми силами, под град Тверь и обступи град. <...> побежал из града Твери князь великий Михаиле Борисович Тверский к Литве, видя свое изнеможение; а в 12 день, в понедельник, приехаша к великому князю Ивану Василюевичю владыка Тверский Васиан, и князь Михаиле Холмской с братею своею и с сыном, и иные князи и бояре, и земския люди все, и город отворища. <...> А в 18 день, в неделю, князь великий Иван Васильевичъ приехал на Москву, взяв город Тверь».

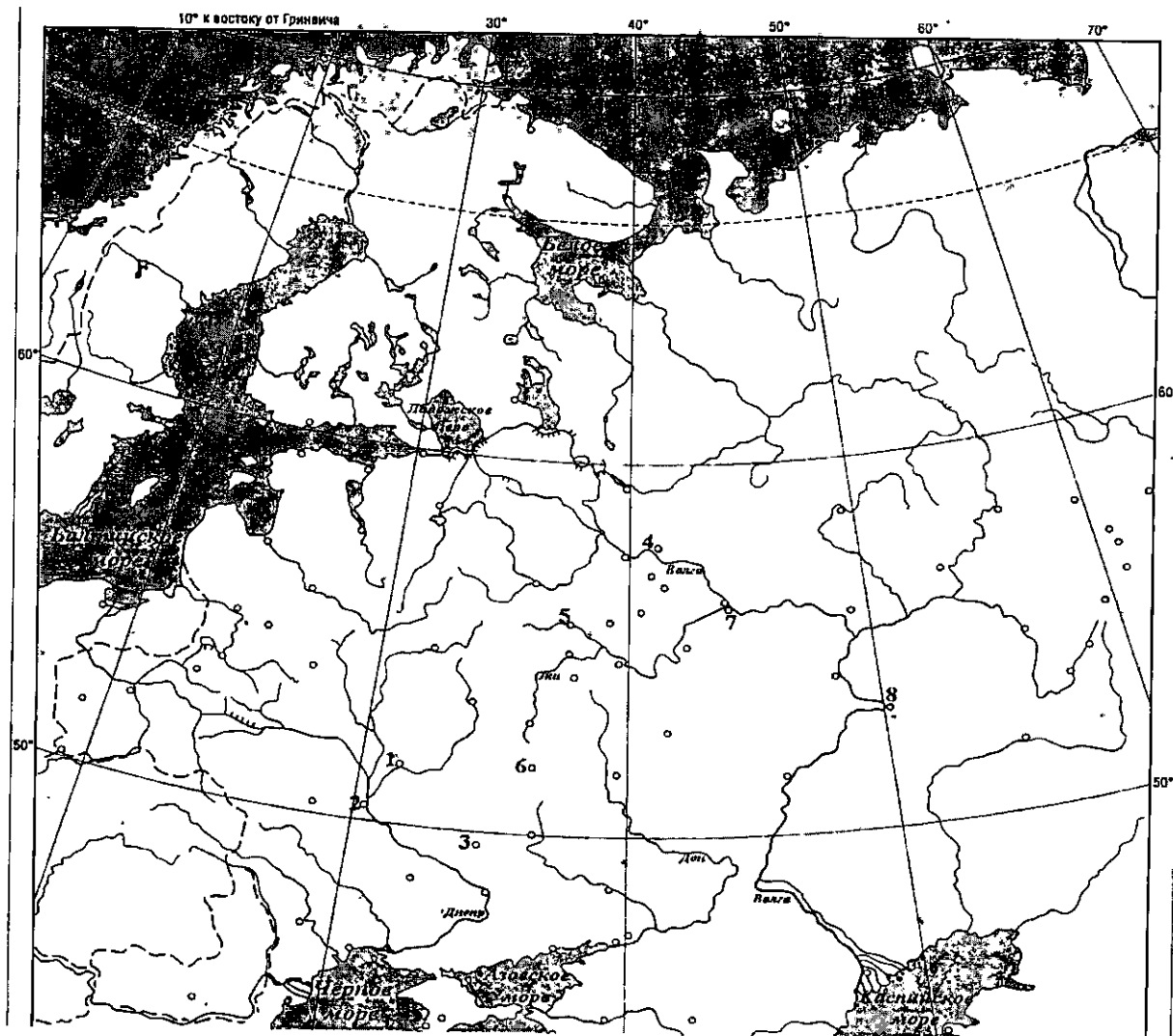
4/8 Ответ А (4 балла)



II (муниципальный) этап Всероссийской олимпиады школьников
2015/16 учебный год

Предмет	Класс	Дата	Время начала	Время окончания
История	7	15 ноября 2016	10:00	11:30

Установите, какой цифрой на карте обозначены города, имеющие отношение к указанным событиям (процессам). Ответ оформляйте в таблицу: занесите соответствующую цифру во вторую колонку таблицы в конце задания (8 баллов)



Определите по описанию, о каком князе идет речь. С каким из указанных в таблице городов, связано его «главное» княжение? Ответ занесите в эту же таблицу: запишите в соответствующих графах имя князя и букву, под которой помещено его описание (9 баллов)

- А) – был известен как образованный человек, знавший несколько иностранных языков и имевший богатую библиотеку;
- он породнился с венгерским, французским и норвежским королевскими домами, выдав замуж своих дочерей;
 - он составил первый русский письменный свод законов – «Русскую Правду»;
 - впервые при нем митрополитом стал русский человек;
 - в период его правления бурно развивалось строительство: возводились новые храмы, арки, Золотые



**II (муниципальный) этап Всероссийской олимпиады школьников
2015/16 учебный год**

Предмет	Класс	Дата	Время начала	Время окончания
История	7	15 ноября 2016	10:00	11:30

ворота ... и целые города;

– перед смертью разделил страну между своими сыновьями, ввергнув Русь в междоусобные войны.

Б) – он одержал важную победу над шведами, которая принесла ему почетное прозвище, с которым он и вошел в историю;

– на подтаявшем льду Чудского озера русские силы под его руководством разгромили ливонских рыцарей;

– в отношениях с монголами он показал себя искусным дипломатом, сумел на время обезопасить Русь от их набегов;

– церковь канонизировала его, по сей день он является одним из наиболее почитаемых русских князей;

– в Новосибирске есть собор его имени.

В) – слепой отец рано сделал его соправителем, поэтому он быстро приобрел опыт и привычку к делам;

– получив от отца в наследство удельное княжество, он к концу своей жизни стал государем огромной страны;

– он ликвидировал монгольское иго;

– при нем страна стала называться Россией, был введен новый герб – двуглавый орел;

– он ввел Юрьев день, положив тем самым начало процессу закрепощения крестьян;

– он не принял перед смертью схиму, как делали его прадед, дед и отец, и умер светским государем, как и жил.

Ответ:

Город	Цифра на карте	Имя князя	Описание князя (буква)
Казань	8 -		
Киев	2 -	Ярослав Мудрый +	А +
Москва	20. 5 +	Иван III +	В +
Новгород	4 -	Александр Невский +	Б +

38. 68.

Задание 3. Кто или что является лишним в ряду? Выпишите лишнее слово из каждого ряда под соответствующим номером. Максимальный балл за задание – 3

1) Категории зависимого населения в Древнерусском государстве:

холопы, волхвы, закупы, рядовичи.

2) Техника ювелирного искусства в Древней Руси:

скань, зернь, чернение, фреска.

3) Выборные должности в Новгородской республике:

посадник, тысяцкий, архиепископ, каган.

38. Ответ 1 волхвы + 3 каган +
2 фреска +




II (муниципальный) этап Всероссийской олимпиады школьников
2015/16 учебный год

Предмет	Класс	Дата	Время начала	Время окончания
История	7	15 ноября 2016	10:00	11:30

Задание 4. Найдите элементы храма на изображении, используя приведенные ниже описания. Расставьте цифры в соответствующие прямоугольники на схеме храма.

Максимальный балл за задание—18



1. *Апсида* – алтарный выступ храма, ориентированный на восток.
2. *Купол* – верхняя часть храма.
3. *Закомары* – полукруглое или килевидное завершение наружной части стен храма.
4. *Портал* – вход в храм.
5. *Барабан* – часть храма, несущая купол.
6. *Лопатки* – вертикальные выступы на стене храма.
7. *Поребрик* – декоративная полоса из кирпичей, поставленных на ребро под углом к поверхности фасада.
8. *Бегунец* – вид орнаментальной кирпичной кладки в виде пояса, образующего на поверхности стены ряд треугольных углублений, последовательно обращенных вершинами вверх и вниз
9. *Прясло* – участок стены древнерусского каменного сооружения, ограниченный двумя лопатками, пилонами или башнями.

Задание 5. Соотнесите культовые архитектурные сооружения и религию, к которой они относятся. Ответ запишите в таблицу. Учтите, что к одной религии может быть отнесено несколько изображений.



**II (муниципальный) этап Всероссийской олимпиады школьников
2015/16 учебный год**

Предмет <i>История</i>	Класс <i>7</i>	Дата <i>15 ноября 2016</i>	Время начала <i>10:00</i>	Время окончания <i>11:30</i>
---------------------------	-------------------	-------------------------------	------------------------------	---------------------------------

Максимальный балл за задание – 10

А	Б
В	Г
Д	Е

Ответ:

Христианство	Буддизм	Ислам
<i>Г Б</i>	<i>А Е</i>	<i>А В</i>

Задание 6. Прочитайте текст. Заполните пробелы в тексте. Ответ оформите в виде перечня элементов под соответствующими номерами. *Максимальный балл за задание – 8*

Иван Калита начал свое княжение с возведения храма во имя успения Божией Матери, в последующие годы стремился заручиться поддержкой духовенства и добился переезда митрополита из Владимира в ____1____. Он понимал, что необходимо военное укрепление княжества, охотно принимал переселенцев из других княжеств и земель, ходил войной на псковичей, давших приют его врагу – ____2____ князю. Он пять раз ездил в Орду и добился права собирать дань с русских земель, ____3____ на великое княжение. Попутно он укрепил свою личную власть и первым из русских князей стал именовать себя ____4____

65 Ответ: *1. Москва 2. Тверскому 3. Юрий 4. Государём всея Руси*

Задание 7. Служилые люди тщательно выбирали место для постройки острога. Первые сибирские остроги, как правило, ставились при слиянии двух рек, на крутом берегу. Например, Верхотурье



II (муниципальный) этап Всероссийской олимпиады школьников
2015/16 учебный год

Предмет	Класс	Дата	Время начала	Время окончания
История	7	15 ноября 2016	10:00	11:30

стоит на каменной горе, Тобольск – на берегу Иртыша на вершине горы Алафеевской, Томск построен на мысе Воскресенской горы над рекою Томь.

Почему для строительства первых сибирских острогов выбирали места у слияния рек, крутой берег или гору? Назовите не менее двух причин.

Максимальный балл за задание – 6

Ответ: 1. Потому что крутой берег или гора являлись оборонительной линией для людей от врагов-из-за своей неприступности.

65. 2. У рек строили потому что вода - это питье, для стирки, земледелия, рыболовства и ремесло.
3. По реке можно перемещаться, т.е. река - это еще и "дорога"

Задание 8. Приведите примеры пословиц (не менее 2 по каждому разделу), подтверждающих, что наши предки занимались земледелием, скотоводством, охотой, рыболовством, ремеслом.

Максимальный балл за задание – 10

15. Земледелие: Что посеешь, то и пожнешь

Скотоводство

Охота

Рыболовство

Ремесло

Дело мастера боится

Задание 9. Вставьте вместо пропусков соответствующее слово

Максимальный балл за задание – 2

1. В Западной Европе – хроники, на Руси – ... летописи

Задание 10. Что или кто является лишним в ряду? Укажите лишнее слово

Максимальный балл за задание – 2

1) Шедевры древнерусской архитектуры: Софийский собор в Киеве, храм Христа Спасителя в Москве, Золотые ворота во Владимире, Спасо-Преображенский собор в Чернигове.

25. Ответ: храм Христа Спасителя в Москве

